

Les châteaux - 5e - contrôle d'histoire et correction

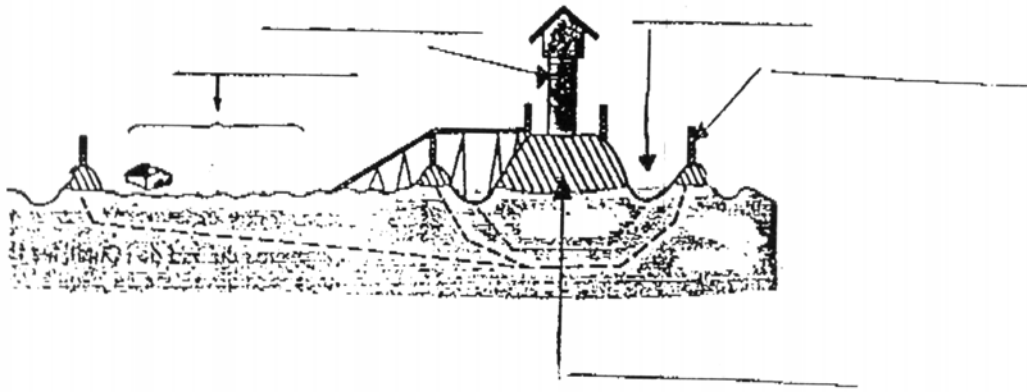
Année scolaire 1998/1999

1) Complète les dessins des différents châteaux ci-dessous.

1a titre : Comment appelle-t'on ce château ?

Motte castrale (ou motte de bois ou château de bois)

Réponse inexacte : *château-fort*




1a éléments de la motte castrale :

Noms à indiquer (dans le sens des aiguilles d'une montre en partant du coin supérieur gauche) : basse-cour, tour, fossé, palissade, motte.

Les châteaux - 5e - contrôle d'histoire et correction

Année scolaire 1998/1999

1b) Eléments du château de pierre



Noms à indiquer (dans le sens des aiguilles d'une montre en partant du coin supérieur gauche) : créneau, merlon, donjon, chemin de ronde, courtine (mur d'enceinte, rempart), meurtrière.

2) Donne les fonctions de ces châteaux

- 2 maison : habitation du seigneur, résidence
 - 2 défense : protéger la population (fonction défensive)
- Réponse inexacte : *f = regroupe les populations*
- 2 économique : domination économique d'un territoire
 - 2 politique : domination politique d'un territoire

**Références des supports pédagogiques utilisés
au collège de Suze-la-Rousse - Année scolaire 1998/1999
Chapitre : les châteaux - Classe de 5e**

questions	démarche historique générale	démarche historique archéologique
<p>1) Complète les dessins des différents châteaux ci-dessous. Comment appelle-t-on ce château ? dessin 1a dessin 1b</p>	<ul style="list-style-type: none"> - copie de la motte de la tapisserie de Bayeux, projection du dessin de la motte de Saint-Sylvain-d'Anjou - dessins d'une motte typique vue en plan et en coupe à compléter - dessin d'un château de pierre typique à compléter - photo 1 p.88 	<ul style="list-style-type: none"> - copie de la reproduction d'une maquette de motte castrale - 5 diapositives de mottes - visite du château de Rochevide : vue du donjon - vue d'une tour à Saint-Paul-Trois-Châteaux - 4 diapositives de château de pierre - dessin d'un château de pierre typique à compléter
<p>2) Donne les fonctions de ces châteaux</p>	<ul style="list-style-type: none"> - dessin de restitution d'un donjon 2 p.89 - dessin de reconstitution de seigneurie 2 p.91 - réflexions 	<ul style="list-style-type: none"> - dessin de reconstitution de seigneurie 2 p.91 - animation au château de Rochevide : accueil par une personne costumée en épouse du seigneur du XIIIe s. - réflexions

Manuel : MARSEILLE (J.), SCHEIBLING (J.), dir., *Histoire Géographie 5e*, Paris, Nathan, 1997, 320 p.

Evaluation quantitative - châteaux - 5e2 classique -

Suze-la-Rousse - 1998/1999

NOM	Q.1a/6	Q.1b/6	Q.2/4	Q.1-2/16	en %
AMGHAR	6,00	5,00	3,00	14,00	87,50
BELOTTI	5,50	6,00	1,00	12,50	78,13
BOUDARDOUH	3,00	1,50	0,00	4,50	28,13
BOULAT	6,00	6,00	2,00	14,00	87,50
BOUVRY	4,00	6,00	1,00	11,00	68,75
CARBILLET	4,00	1,00	2,00	7,00	43,75
CHAMPOUSSIN	2,00	1,50	1,00	4,50	28,13
CHARAVET	2,00	3,50	0,00	5,50	34,38
COHET	4,00	5,00	0,00	9,00	56,25
DREVET	2,00	1,50	0,00	3,50	21,88
DUFOUR	4,00	5,00	1,00	10,00	62,50
DUPRE	4,00	4,00	1,00	9,00	56,25
EYQUEM	6,00	4,00	1,00	11,00	68,75
FODERA	4,50	1,00	2,00	7,50	46,88
FRANZE	5,00	1,50	0,00	6,50	40,63
HECKE	2,00	3,00	0,00	5,00	31,25
HERDUIN	4,00	5,00	2,00	11,00	68,75
LAURENT	6,00	6,00	0,00	12,00	75,00
MADIC	4,50	3,00	3,00	10,50	65,63
PIGEAULT	3,00	5,00	0,00	8,00	50,00
ROCAMORA	2,00	3,00	0,00	5,00	31,25
SAINTE-MARIE	4,50	6,00	1,00	11,50	71,88
TOTI	6,00	3,00	2,00	11,00	68,75
VERNET	6,00	6,00	2,00	14,00	87,50
moyenne	4,17	3,85	1,04	9,06	56,64
% de réussite	69,50	64,16	26,00		

Evaluation quantitative - châteaux - 5e2 classique - Suze-la-Rousse - 1998/1999

NOM	1 a titre	1a éléments motte castrale	1b éléments château de pierre	2 maison	2 défense	2 éco	2 pol
AMGHAR	1	0, donjon, d, e, f	0, rempart, c, 0, 0, f	1	1	0	0
BELOTTI	1 (motte)	b, donjon, d, e, f	1	0	1	0	0
BOUDARDOUH	1 (motte)	0, 0, d, 0, f	0, rempart, c, 0, 0, 0	0	0	0	0
BOULAT	1 (motte)	1	1	1	1	0	0
BOUVRY	1	0, 1, 0, e, f	1	0	1	0	0
CARBILLET	1 chât. terre et bois	0, c, d, 0, f	0, 0, 0, 0, 0, f	1	1	0	0
CHAMPOUSSIN	0	0, 0, d, 0, f	0, rempart, c, 0, 0, 0	0	1	0	0
CHARAVET	0	0, 0, d, e, 0	a, 0, c, chemin, e, 0	0	0	0	0
COHET	1 (motte)	b, 0, d, 0, f	a, 0, c, d, e, f	0	0	0	0
DREVET	0	0, 0, d, 0, f	0, rempart, c, 0, 0, 0	0	0	0	0
DUFOUR	0	b, 0, d, e, f	a, b, c, 0, e, f	0	1	0	0
DUPRE	0	b, c, d, 0, f	a, b, c, d, 0, 0	0	1	0	0
EYQUEM	1	1	0, 0, c, d, e, f	0	1	0	0
FODERA	1 (château de bois)	0, c, 0, e, f	village, 0, 0, 0, e, 0	1	1	0	0
FRANZE	0	1	0, b, 0, chemin, 0, 0	0	0	0	0
HECKE	0	0, 0, d, e, 0	a, b, chemin de route, 0, 0, 0	0	0	0	0
HERDUIN	1 (motte)	b, 0, d, 0, f	a, 0, c, d, e, f	1	1	0	0
LAURENT	1 (château de bois)	1	1	0	0	0	0
MADIC	château en terre	b, 0, d, e, f	a, 0, c, 0, 0, f	0	1	1	1
PIGEAULT	0	0, 0, d, e, f	a, b, c, d, 0, f	0	0	0	0
ROCAMORA	0	0, 0, d, 0, f	0, 0, c, d, 0, f	0	0	0	0
SAINTE-MARIE	château-fort	b, 0, d, e, f	1	0	0	0	0
TOTI	1	1	a, b, 0, 0, 0, f	1	1	0	0
VERNET	1	1	1	1	1	0	0
total de b. rép.	12	6	6	7	14	1	1
% de b. réponses	50,00	25,00	25,00	29,17	58,33	4,17	4,17

Evaluation quantitative - châteaux -
5e4 archéologie - Suze-la-Rousse - 1998/1999

NOM	Q.1a/6	Q.1b/6	Q.2/4	Q.1-2/16	en %
ATTAEA N.	4,00	5,00	3,00	12,00	75,00
BOSCHER ST.	5,50	5,00	3,00	13,50	84,38
BOULANGER C.	6,00	6,00	2,00	14,00	87,50
BRINGUIER F.	5,00	5,00	0,00	10,00	62,50
CHAPONNEAU M.	6,00	6,00	4,00	16,00	100,00
DAMIANI U.	6,00	6,00	2,00	14,00	87,50
FOUGEIROL J.	6,00	6,00	4,00	16,00	100,00
GILLOT C.	5,00	5,00	3,50	13,50	84,38
HAMICH S.	3,50	3,00	1,00	7,50	46,88
HUY B.	6,00	6,00	3,00	15,00	93,75
ICARD N.	5,00	5,00	1,00	11,00	68,75
JACQUEMOT K	6,00	6,00	1,50	13,50	84,38
LECAILLE M.	0,50	2,00	1,00	3,50	21,88
MAGNE A.	6,00	5,00	0,00	11,00	68,75
MARIN G.	3,00	3,00	1,00	7,00	43,75
MASSON L.	4,00	5,00	1,00	10,00	62,50
MEDINA J.	4,00	4,00	1,00	9,00	56,25
MEUNIER I.	5,00	1,00	0,00	6,00	37,50
MICHEL St.	6,00	6,00	4,00	16,00	100,00
MILESI N.	6,00	6,00	2,00	14,00	87,50
MOCHIN G.	6,00	6,00	4,00	16,00	100,00
MRIOUAH H.	2,50	3,00	1,00	6,50	40,63
PASCALIN L.	6,00	5,00	3,00	14,00	87,50
PHILIPPE M.	6,00	5,00	1,00	12,00	75,00
PIGEAULT A.	4,50	4,00	1,00	9,50	59,38
TAURISSON C.	6,00	6,00	1,00	13,00	81,25
moyenne	4,98	4,81	1,88	11,67	72,96
% de réussite	83,00	80,16	47,00		

Evaluation qualitative - châteaux - 5e4 archéologie - Suze-la-Rousse - 1998/1999

NOM	1a titre	1a éléments motte castrale	1b éléments château de pierre	2 maison	2 défense	2 éco	2 pol
ATTAEA N.	0	0, donjon de bois, d, e, f	0, b, c, d, e, f	1	1	1	0
BOSCHER ST.	1	b, c, d, chemin de ronde, f	a, b, c, d, O, f	1	0	1	1
BOULANGER C.	1	1	1	1	1	0	0
BRINGUIER F.	0	b (cour), c, d, O, f	a, b, c, d, O, f	0	0	0	0
CHAPONNEAU M.	1	1	1	1	1	1	1
DAMIANI U.	1	1 (e = rempart de bois)	1	1	1	0	0
FOUGEIROL J.	1	1	1	1	1	1	1
GILLOT C.	1	b, O, d, e, f	a, b, c, d, O, f	1	1	1	0
HAMICH S.	1	O, donjon, d, O, f	a, b, O, d, O, O	1	0	0	0
HUY B.	1	1	1	0	1	1	1
ICARD N.	1	b, c, d, O, f	a, b, c, O, e, f	0	1	0	0
JACQUEMOT K	1	1	1	0	f	1	0
LECAILLE M.	chateau du seigneur	0	O, O, c, d (murailles), O, O	0	1	0	0
MAGNE A.	1	1	a, b, c, O, e, f	0	0	0	0
MARIN G.	1 (château de bois)	O, c, O, O, f	a, b, O, O, O, f	1	0	0	0
MASSON L.	1 (motte)	O, c, d, O, f	a, b, c, d, O, f	0	1	0	0
MEDINA J.	1 (château de bois)	O, c, d, O, f	a, O, c, d, O, f	0	1	0	0
MEUNIER I.	1 (motte de bois)	O, c, d, e, f	O, O, O, O, O, f	0	0	0	0
MICHEL St.	1	1	1	1	1	1	1
MILESI N.	1 (château de bois)	1	1	1	1	0	0
MOCHIN G.	1	1	1	1	1	1	1 (d')
MRIOUAH H.	château-fort	O, O, d, O, f	O, O, c, d, O, f	1	0	0	0
PASCALIN L.	1 (motte)	1	a, b, c, d, O, f	1	1	0	1
PHILIPPE M.	1 (motte)	1	a, b, c, O, e, f	0	1	0	0
PIGEAULT A.	château-fort	b, c, d, O, f	a, O, c, d, O, f	0	1	0	0
TAURISSON C.	1	1	1	0	1	0	0
total de b. rép.	21	13	10	14	18	9	7
% de b. réponses	80,77	50,00	38,46	53,85	69,23	34,62	27,92

**Références des supports pédagogiques utilisés
au collège de Pierrelatte - Année scolaire 1998/1999
Chapitre : les châteaux - Classe de 5e**

questions	démarche historique générale	démarche historique archéologique
<p>1) Complète les dessins des différents châteaux ci-dessous. Comment appelle-t'on ce château ? dessin 1a dessin 1b</p>	<ul style="list-style-type: none"> - copie de la motte de la tapisserie de Bayeux - dessin de motte de Saint-Jean-de-Thurignieux - photo de la motte de Saint-André-de-Corcy (cf. Catalogue d'exposition <i>Châteaux de Terre : de la motte à la maison forte Histoire et archéologie dans la région Rhône-Alpes juin 1987-décembre 1988</i>, Lyon, s.d., 72 p.) - dessin d'un château de pierre typique - photos des châteaux de Château-Gaillard p.84, de Loches 1 p.90 et 3 p.91 	<p>Sortie au château de Rochefort-en-Valdaine :</p> <ul style="list-style-type: none"> - étude et dessins de la motte - observation des vestiges du château de pierre - renvoi au livre pour réviser le vocabulaire du château de pierre dans le livre à faire à la maison
<p>2) Donne les fonctions de ces châteaux</p>	<ul style="list-style-type: none"> - textes 2 p.92 et 4 p.93 - réflexions 	<ul style="list-style-type: none"> - Sortie au château de Rochefort-en-Valdaine - texte 2 p.92 - réflexions

Manuel : IVERNEL (M.), dir., ., *Histoire Géographie 5e*, Paris, Hatier, 1997, 320 p.

Evaluation quantitative - châteaux -
5e4 archéologie - Pierrelatte - 1998/1999

NOM	Q.1a/6	Q.1b/6	Q.2/4	Q.1-2/16	en %
BALLESTER V.	4,00	6,00	0,00	10,00	62,50
BERRICH N.	4,50	4,00	1,00	9,50	59,38
CLAUZIER V.	5,00	4,00	4,00	13,00	81,25
ELHATRI F.	6,00	6,00	4,00	16,00	100,00
FRANGER T.	5,00	5,00	1,00	11,00	68,75
GAUBERT M.	5,50	6,00	4,00	15,50	96,88
JENNEQUIN R.	6,00	6,00	4,00	16,00	100,00
LACAN C.	5,00	6,00	2,00	13,00	81,25
LOUBET M.	0,00	0,00	0,00	0,00	0,00
PALACIO L.	0,00	0,00	0,00	0,00	0,00
PERD F.	5,50	4,00	4,00	13,50	84,38
PIVIER C.	5,50	5,50	4,00	15,00	93,75
REVEZ A.	6,00	6,00	4,00	16,00	100,00
ROCCA S.	6,00	5,50	4,00	15,50	96,88
ROUBY I.	6,00	6,00	4,00	16,00	100,00
SADIK B.	1,00	2,00	4,00	7,00	43,75
SERVAN C.	5,00	6,00	4,00	15,00	93,75
TILLER A.	6,00	4,00	4,00	14,00	87,50
TRAVERT J.	6,00	6,00	4,00	16,00	100,00
VEGA J.	5,50	4,00	3,00	12,50	78,13
moyenne	4,68	4,60	2,95	12,23	76,41
% de réussite	78,00	76,67	73,75		

Evaluation qualitative - châteaux - 5e4 archéologie - Pierrelatte - 1998/1999

NOM	1a titre	1a éléments motte castrale	1b éléments château de pierre	2 maison	2 défense	2 éco	2 pol
BALLESTER V.	0	0, c, d, e, f	1	0	0	0	0
BERRICH N.	1	b, donjon, d, O, f	0, 0, c, d, e, f	0	1	0	0
CLAUZIER V.	0	1	a, 0, c, 0, muraille, f	1	1	1	1
ELHATRI F.	1	1	1	1	1	1	1
FRANGER T.	0	1	a, b, c, d, f	0	1	0	0
GAUBERT M.	château castral	1	1	1	1	1	1
JENNEQUIN R.	1	1	1	1	1	1	1
LACAN C.	0	1	1	1	1	0	0
LOUBET M.	0	0	0	0	0	0	0
PALACIO L.	0	0	0	0	0	0	0
PERD F.	château castral	1	0, 0, c, d, e, f	1	1	1	1
PIVIER C.	1	b, donjon, d, e, f	a, mélon, c, d, e, f	1	1	1	1
REVEZ A.	1	1	1	1	1	1	1
ROCCA S.	1	1	a, b, c, couloir de ronde, e, f	1	1	1	1
ROUBY I.	1	1	1	1	1	1	1
SADIK B.	0	0, 0, d, 0, 0	0, 0, c, d, 0, 0	1	1	1	1
SERVAN C.	0	1	1 (muraille)	1	1	1	1
TILLER A.	1	1	0, 0, c, d, e, f	1	1	1	1
TRAVERT J.	1	1	1	1	1	1	1
VEGA J.	1	b, donjon, d, e, f	a, 0, c, d, 0, f	0	1	1	1
total de b. rép.	10	13	8	14	17	14	14
% de b. réponses	50,00	65,00	40,00	70,00	85,00	70,00	70,00

**Evaluation quantitative - châteaux -
5e5 classique - Pierrelatte - 1998/1999**

NOM	Q.1a/6	Q.1b/6	Q.2/4	Q.1-2/16	en %
ALCAIDE J.	5,00	4,00	3,00	12,00	75,00
BEN MALEK L.	3,00	2,00	3,00	8,00	50,00
BOISSIN J.	5,00	6,00	4,00	15,00	93,75
BOUVET E.	6,00	6,00	3,00	15,00	93,75
BOUCHEMELLA L.	5,00	6,00	1,00	12,00	75,00
BROUQRE V.	6,00	5,00	4,00	15,00	93,75
CHAUVET B.	6,00	5,00	4,00	15,00	93,75
COMBE F.	6,00	6,00	4,00	16,00	100,00
GAILLON R.	5,00	6,00	4,00	15,00	93,75
GRAUX S.	6,00	6,00	2,00	14,00	87,50
HECHICHE N.	6,00	6,00	4,00	16,00	100,00
JABRI B.	4,00	3,00	0,50	7,50	46,88
JABRI L.	6,00	5,00	2,00	13,00	81,25
NADIA L.	6,00	6,00	4,00	16,00	100,00
REY E.	5,00	6,00	4,00	15,00	93,75
SEME J.	4,00	3,00	4,00	11,00	68,75
VASLIN J.	6,00	6,00	4,00	16,00	100,00
moyenne	5,29	5,12	3,21	13,62	85,11
% de réussite	88,24	85,29	80,15		

Evaluation qualitative - châteaux - 5e5 classique - Pierrelatte - 1998/1999

NOM	1 a titre	1 a éléments motte castrale	1 b éléments château de pierre	2 maison	2 défense	2 éco	2 pol
ALCAIDE J.	0	1 enclos, c, d, e, f	a, 0, c, d, 0, f	0	1	1	0
BEN MALEK L.	1	0, c, d, 0, 0	a, 0, c, 0, 0, 0	1	1	0	1
BOISSIN J.	1	b, c, d, 0, f	1	1	1	1	1
BOUVET E.	1	1	1	0	1	1	1
BOUCHEMELLA L.	1	b, c, d, 0, f	1	1	1	1	1
BROUQRE V.	1	1	a, 0, c, d, e, f	1	1	1	1
CHAUVET B.	1	1	a, 0, c, d, e, f	1	1	1	1
COMBE F.	1	1	1	1	1	1	1
GAILLON R.	1	b, c, d, 0, f	1	1	1	1	1
GRAUX S.	1	1	1	1	1	0	0
HECHICHE N.	1	1	1	1	1	1	1
JABRI B.	1	0, c, d, 0, f	a, 0, c, 0, e, 0	0	fortifié	0	0
JABRI L.	1	1	a, b, c, 0, e, f	1	1	0	0
NADIA L.	1	1 b, c, d, 0, f (vallum)	1	1	1	1	1
REY E.	1	0, c, d, e, f	1	1	1	1	1
SEME J.	1	b, c, d, 0, 0	a, 0, c, d, 0, 0	1	1	1	1
VASLIN J.	1	1	1	1	1	1	1
total de b. rép.	16	10	10	14	16	13	13
% de b. réponses	94,12	58,82	58,82	82,35	94,12	76,47	76,47

Les châteaux - 5e - contrôle d'histoire et correction

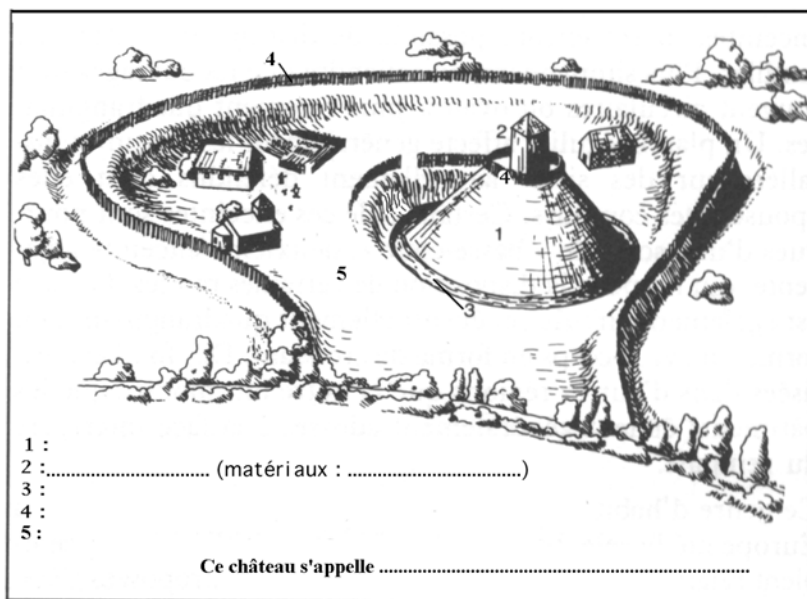
Année scolaire 1999/2000

1) Complète les dessins des différents châteaux ci-dessous.

1a titre : Comment appelle-t'on ce château ?

Motte castrale (ou motte de bois ou château de bois)

Réponse inexacte : *château-fort*



1A éléments de la motte castrale :

Noms à indiquer : 1 = motte ; 2 = tour (en bois ou base en pierre ou parfois en pierre) ; 3 = fossé ; 4 = palissade (réponse inexacte = *rempart*) ; 5 = basse-cour

Ce château s'appelle une motte castrale

1a nom : Donne le nom d'un exemple de ce type de château.

D = Dinan

DF = Doué-la-Fontaine

E = Estagnol

P = Pleshey

Roche fort = Roche fort-en-Valdaine

SA = Saint-Sylvain d'Anjou

SJT = Saint-Jean de Thurigneux

SM = South Mimms

Ve = Vendôme

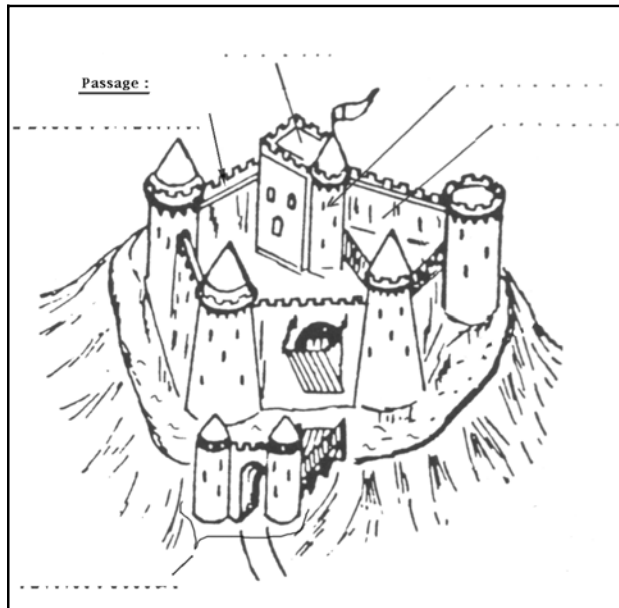
V = Villars-les-Dombes

Les châteaux - 5e - contrôle d'histoire et correction

Année scolaire 1999/2000

1b date : De quand date ce type de château ? IXe, Xe, XIe s. :
Réponse considérée juste si l'élève donne cette période ou s'il a donné un des trois siècles indiqués ci-dessus.

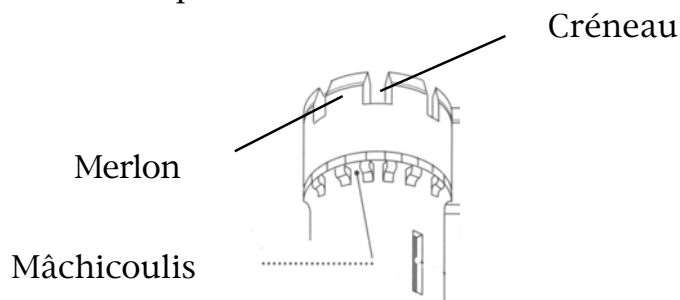
1 B éléments du château de pierre :



noms à indiquer (dans le sens des aiguilles d'une montre) :
passage = chemin de ronde ;
donjon, meurtrière, courtine
(mur d'enceinte, rempart),
barbacane.

1C : crénelage

Noms à indiquer :



2) Donne les fonctions de ces châteaux

- 2 maison : habitation du seigneur, résidence
- 2 défense : protéger la population (fonction défensive)
- Réponse inexacte : *f = regroupe les populations*
- 2 économique : domination économique d'un territoire
- 2 politique : domination politique d'un territoire

**Références des supports pédagogiques utilisés
au collège de Suze-la-Rousse - Année scolaire 1999/2000
Chapitre : les châteaux - classe de 5e**

questions	démarche historique générale	démarche historique archéologique
<p>1) Complète les dessins des différents châteaux ci-dessous. Comment appelle-t'on ce château ? 1a nom : Donne le nom d'un exemple de ce type de château. De quand date ce type de château ? dessin 1a dessin 1B dessin 1C</p>	<p>- copie de la motte de Dinan représentée sur la tapisserie de Bayeux, projection de dessin de la motte de Saint-Sylvain-d'Anjou - dessins d'une motte typique vue en plan et en coupe à compléter - dessin d'un château de pierre typique à compléter - photo 1 p.88 - exercice sur château-fort 2 p.104</p>	<p>- dessin d'une motte castrale typique à légènder - 5 diapositives de mottes - projection de deux projection de motte de Pleshey et South Mimms (cf. POISSON 1992, 53 et ALLEN BROWN (R.), <i>Castle</i>, Shire Publications ltd, 1989, pp.18-19) - visite extérieure du château de Suze-la-Rousse - vue d'une tour à Saint-Paul-Trois-Châteaux - 4 diapositives de château de pierre - dessin d'un château de pierre typique à compléter</p>
<p>2) Donne les fonctions de ces châteaux</p>	<p>- dessin de restitution d'un donjon 2 p.89 - dessin de reconstitution de seigneurie 2 p.91 - réflexions</p>	<p>- dessin de reconstitution de seigneurie 2 p.91 - réflexions</p>

Manuel : MARSEILLE (J.), SCHEIBLING (J.), dir., *Histoire Géographie 5e*, Paris, Nathan, 1997, 320 p.

Evaluation quantitative - châteaux - 5e3 classique -

Suze-la-Rousse - 1999/2000

NOM	Q.1A/6	Q.1a/1	Q.1b/1	Q.1B/5	Q.1C/3	Q.2/4	Q.1-2/20	en %
BARRET	5,00	1,00	0,00	5,00	1,00	1,00	13,00	65,00
BEDOS	5,50	0,00	1,00	4,00	3,00	2,00	15,50	77,50
BOULANGER	6,00	0,00	1,00	0,50	0,00	1,00	8,50	42,50
CARBILLET	6,00	1,00	0,00	3,00	0,00	1,00	11,00	55,00
DEVILLIERS	4,50	1,00	0,00	4,00	3,00	2,00	14,50	72,50
FATNASSI	3,50	1,00	0,00	2,00	0,00	1,00	7,50	37,50
FERRER	5,50	0,00	0,00	3,00	2,00	1,00	11,50	57,50
FLEURET	6,00	1,00	0,00	5,00	3,00	2,50	17,50	87,50
GAMEZ	4,00	0,00	0,00	5,00	2,00	0,00	11,00	55,00
GANDOUZI	5,50	0,00	0,00	2,50	0,00	0,00	8,00	40,00
GILLES	6,00	0,00	1,00	4,00	3,00	0,50	14,50	72,50
JALICOUX	4,50	0,00	1,00	4,00	2,00	2,00	13,50	67,50
KANEKO	5,00	1,00	1,00	5,00	3,00	1,50	16,50	82,50
LIBERT	5,50	1,00	0,00	3,00	3,00	3,00	15,50	77,50
LOUBENS	5,00	1,00	1,00	5,00	3,00	1,00	16,00	80,00
MICHEL	6,00	0,00	1,00	3,00	1,00	1,00	12,00	60,00
PAYAN	6,00	1,00	1,00	4,00	3,00	4,00	19,00	95,00
PAYRE	3,50	1,00	1,00	1,00	1,00	0,00	7,50	37,50
PRAUD	6,00	1,00	1,00	4,00	3,00	3,00	18,00	90,00
RABATEL	4,50	1,00	1,00	3,00	0,00	2,50	12,00	60,00
RAYMOND	6,00	1,00	0,00	3,50	3,00	3,00	16,50	82,50
ROCAMORA	4,50	0,00	0,00	4,00	3,00	2,00	13,50	67,50
TAILLARD	6,00	0,00	0,00	2,00	2,00	1,00	11,00	55,00
moyenne	5,22	0,57	0,48	3,46	1,91	1,57	13,20	65,98
% de réussite	87,00	57,00	48,00	69,20	63,66	39,25		

Evaluation qualitative - châteaux - 5e3 classique - Suze-la-Rousse - 1999/2000

NOM	1A éléments motte castrale	1a nom	1b date	1B éléments château de pierre	1C crénelage	2 maison	2 défense	2 éco	2 pol
BARRET	a, b, c, d, e, 0	1 SA	0	1	0, 0, c	0	1	0	pol
BEDOS	a, b, c, rempart, e, f	0	1	a, b, c, d, 0	1	1	1	0	0
BOULANGER	1	0	1	0, 0, 0, courtime de ronde	0	0	1	0	0
CARBILLET	1	1 D	0	a, 0, 0, d, e	0	0	1	0	0
DEVILLIERS	a, b, c, rempart, e, 0	1 D	0	a, b, c, d, 0	1	1	1	0	0
FATNASSI	a, donjon, c, 0, 0, f	1 SA	0	0, b, c, 0, 0	0	1	0	0	0
FERRER	a, b, c, rempart, e, f	0	0	a, b, 0, 0, e	0, b, c	0	0	0	0
FLEURET	1	1 SA	0	1	1	1	1	0	chef
GAMEZ	a, b, c, d, 0, 0	0	0	1	a, b, 0	0	0	0	0
GANDOUZI	a, bois, c, d, e, f	0	0	a, 0, 0, d, chasse de ronde	0	0	0	0	0
GILLES	1	0	1 Xle	a, 0, c, d, e	1	0	0	0	droit pol
JALICOUX	a, b, c, rempart, e, 0	0	1	a, b, c, 0, e	a, b, 0	1	1	0	0
KANEKO	a, b, c, d, e, 0	1 SA	0	1	1	0	1	0	pol
LIBERT	a, bois, c, d, e, f	1 D	0	a, b, 0, d, 0	1	1	1	éco	pol
LOUBENS	a, b, c, d, e, 0	1 D	1	1	1	0	1	0	0
MICHEL	1	0	1 Xle	a, b, 0, d, 0	0, 0, c	0	1	0	0
PAYAN	1	1 D	1	a, b, 0, d, e	1	1	1	1	1
PAYRE	a, b, c, rempart, 0, 0	1 SA	1	a, 0, 0, 0, 0	0, b, 0	0	0	0	0
PRAUD	1	1 SA	1	0, b, c, d, e	1	0	1	1	1
RABATEL	a, b, 0, d, e, château à motte	1 SA	1	a, b, 0, d, 0	0	0	1	éco	1
RAYMOND	1	1 SA	0	a, b, c, 0, tour de ronde	1	1	1	éco	pol
ROCAMORA	a, b, c, rempart, e, 0	0	0	a, b, c, d, 0	1	1	1	0	0
TAILLARD	1	0	0	0, 0, c, d, 0	a, b, 0	0	1	0	0
total de b. rép.	9	13	8	5	11	9	17	2	3
% de b. réponses	39,13	56,52	34,78	21,74	47,83	39,13	73,91	8,70	13,04

Evaluation quantitative - châteaux -
5e4 archéologie - Suze-la-Rousse - 1999/2000

NOM	Q.1A/6	Q.1a/1	Q.1b/1	Q.1B/5	Q.1C/3	Q.2/4	Q.1-2/20	en %
BONDOIS	5,00	1,00	0,50	1,00	1,00	0,00	8,50	42,50
BOUVRY	6,00	1,00	1,00	3,00	3,00	2,50	16,50	82,50
BUISSET	1,50	0,00	0,00	0,00	0,00	0,00	1,50	7,50
CATRIN J.	5,50	1,00	1,00	5,00	2,00	4,00	18,50	92,50
COATES	6,00	0,00	0,50	5,00	3,00	1,00	15,50	77,50
DELIASSUS	4,50	0,00	1,00	3,00	3,00	2,50	14,00	70,00
GUERIN	4,00	0,00	1,00	3,00	0,00	2,00	10,00	50,00
LE GLOANEC	6,00	0,00	0,50	4,00	3,00	1,00	14,50	72,50
LECAILLE	3,50	0,00	1,00	0,00	0,00	1,00	5,50	27,50
MASSENDARI	5,00	1,00	1,00	5,00	2,00	4,00	18,00	90,00
MATOIS	6,00	1,00	0,00	4,00	2,00	2,00	15,00	75,00
MAURIN	6,00	0,00	1,00	4,50	3,00	2,00	16,50	82,50
MAZILLIER	6,00	1,00	1,00	3,00	3,00	4,00	18,00	90,00
MEDINA	6,00	1,00	1,00	4,00	3,00	3,00	18,00	90,00
PAJANI	6,00	1,00	1,00	5,00	3,00	4,00	20,00	100,00
PIGEAULT	6,00	1,00	1,00	3,00	3,00	4,00	18,00	90,00
PIGUET	5,00	0,00	1,00	2,50	1,50	1,00	11,00	55,00
REMUSAN	6,00	1,00	1,00	5,00	3,00	4,00	20,00	100,00
RICHAUD	6,00	1,00	1,00	5,00	3,00	4,00	20,00	100,00
SARRAIRE	6,00	1,00	1,00	5,00	3,00	2,00	18,00	90,00
SEGAUD	6,00	1,00	1,00	5,00	3,00	4,00	20,00	100,00
TANA	6,00	1,00	1,00	5,00	3,00	3,00	19,00	95,00
moyenne	5,36	0,64	0,84	3,64	2,30	2,50	15,27	76,36
% de réussite	89,33	64,00	84,00	72,80	76,66	62,50		

Evaluation qualitative - châteaux - 5e4 archéologie - Suze-la-Rousse - 1999/2000

NOM	1A éléments motte castrale	1a nom	1b date	1B éléments château de pierre	1C crénelage	2 maison	2 défense	2 éco	2 pol
BONDOIS	a, b, c, d, e, 0	1DF	IXe-XIIe	a, b, 0, 0, e	1	1	1	0	pol
BOUVRY	1	1P	1	a, b, c, d, 0, f		1	0	1	1
BUISSET	a, 0-bois, 0, 0, 0, f	0	0	0	0	0	0	0	0
CATRIN J.	a, tour, c, d, e, f	1P	1	1	a, b, 0	1	1	1	1
COATES	1	0	IXe et XVe	1	1	0	1	0	0
DELASSUS	a, b, c, rempart, 0, f	0	1	a, 0, 0, d, e	1	1	1	0	pol
GUERIN	a,b,c,rempart,e,chât. de bois	0	1	a, b, 0, 0, e	0	0	1	éco	pol
LE GLOANEC	1	0	XIe au XIIIe	a, b, c, d, 0	1	0	1	0	0
LECAILLE	a, b, 0, rempart, 0, f	0	1 XIe	0	0	0	1	0	0
MASSENDARI	a, 0, c, d, e, f	1P	1	1	a, b, 0	1	1	1	1
MATOIS	1	1DF	0	a, b, 0, d, e	a, 0, c	0	0	1	1
MAURIN	1	0	1	a, b, palissade, d, e	1	0	1	éco	pol
MAZILLIER	1	1P	1	a, 0, 0, d, e	1	1	1	1	1
MEDINA	1	1DF	1	a, b, 0, d, e	1	0	1	1	1
PAJANI	1	1P	1	1	1	1	1	1	1
PIGEAULT	1	1P	1 XIe	0, b, 0, d, e	1	1	1	1	1
PIGUET	a, b, c, 0, e, f	0	1	a, b, palissade, 0, 0	0, b, corbeau	0	1	0	0
REMUSAN	1	1V	1	1	1	1	1	1	1
RICHAUD	1	1P	1	1	1	1	1	1	1
SARRAIRE	1	1P	1	1	1	0	1	0	1
SEGAUD	1	1P	1	1	1	1	1	1	1
TANA	1	1P	1	1	1	1	1	éco	pol
total de b. rép.	14	14	15	9	14	12	19	11	12
% de b. réponses	63,64	63,64	68,18	40,91	63,64	54,55	86,36	50,00	54,55

**Références des supports pédagogiques utilisés
au collège de Pierrelatte - Année scolaire 1999/2000
Chapitre : les châteaux - Classe de 5e**

questions	démarche historique générale	démarche historique archéologique
<p>1) Complète les dessins des différents châteaux ci-dessous. Comment appelle-t'on ce château ? 1a nom : Donne le nom d'un exemple de ce type de château. De quand date ce type de château ? dessin 1a dessin 1B dessin 1C</p>	<ul style="list-style-type: none"> - copie de la motte de la tapisserie de Bayeux - dessin de motte de Saint-Jean-de-Thurignieux - photo du château d'Albon - photo de la motte de Saint-André-de-Corcy (cf. Catalogue d'exposition <i>Châteaux de Terre : de la motte à la maison forte Histoire et archéologie dans la région Rhône-Alpes juin 1987-décembre 1988</i>, Lyon, s.d., 72 p.) - dessin d'un château de pierre typique - photos des châteaux de Château-Gaillard p.84, de Loches 1 p.90 et 3 p.91 	<ul style="list-style-type: none"> - copie de la motte de la tapisserie de Bayeux - photo du château d'Albon - Sortie au château de Rochefort-en-Valdaine : - étude et dessins de la motte - observation des vestiges du château de pierre - renvoi au livre pour réviser le vocabulaire du château de pierre dans le livre à faire à la maison
<p>2) Donne les fonctions de ces châteaux</p>	<ul style="list-style-type: none"> - textes 2 p.92 et 4 p.93 - réflexions 	<ul style="list-style-type: none"> - Sortie au château de Rochefort-en-Valdaine - texte 2 p.92 - réflexions

Manuel : IVERNEL (M.), dir., *Histoire Géographie 5e*, Paris, Hatier, 1997, 320 p.

**Evaluation quantitative - châteaux -
5e2 classique - Pierrelatte - 1999/2000**

NOM	Q.1A/6	Q.1a/1	Q.1b/1	Q.1B/5	Q.1C/3	Q.2/4	Q.1-2/20	en %
ASTORGA	5,00	0,00	0,50	4,00	2,00	1,00	12,50	62,50
BEAUCHAMP	4,50	0,00	0,50	2,00	2,00	0,00	9,00	45,00
BENMALEK	5,00	0,00	1,00	3,00	1,00	0,00	10,00	50,00
BILLOT	6,00	0,50	0,50	5,00	3,00	4,00	19,00	95,00
BOURAI	6,00	0,00	0,50	4,00	3,00	4,00	17,50	87,50
BOUVET	5,00	1,00	0,50	4,00	2,00	4,00	16,50	82,50
BRUGIERE	6,00	0,00	1,00	5,00	3,00	4,00	19,00	95,00
BUISSON	2,50	0,00	1,00	5,00	3,00	3,00	14,50	72,50
CHARPAIL	5,00	0,00	0,50	4,00	3,00	3,00	15,50	77,50
COURBIS	4,00	1,00	0,50	5,00	3,00	4,00	17,50	87,50
DERYCKE	5,00	1,00	0,50	5,00	3,00	4,00	18,50	92,50
DURAND	5,50	1,00	1,00	5,00	3,00	4,00	19,50	97,50
FATHI	1,00	0,00	0,50	0,00	0,00	1,00	2,50	12,50
FIQUET	6,00	0,00	0,50	3,00	3,00	4,00	16,50	82,50
JACOBELLI	5,00	0,00	0,50	4,00	3,00	4,00	16,50	82,50
LUC	5,00	0,00	0,50	5,00	3,00	4,00	17,50	87,50
MEDINA	5,00	0,00	1,00	5,00	3,00	3,00	17,00	85,00
PAGES	6,00	1,00	0,50	5,00	2,00	4,00	18,50	92,50
PLATON	5,50	0,00	0,00	5,00	2,00	2,00	14,50	72,50
SAHLI	5,00	1,00	0,50	5,00	3,00	4,00	18,50	92,50
TERZI	5,50	0,00	0,50	5,00	3,00	4,00	18,00	90,00
VIALLE	4,00	1,00	0,50	5,00	3,00	4,00	17,50	87,50
VICTORIA	4,00	0,00	0,50	5,00	2,00	4,00	15,50	77,50
WINAUD	5,00	0,00	0,50	4,00	3,00	1,00	13,50	67,50
moyenne	4,85	0,31	0,58	4,25	2,54	3,08	15,63	78,13
% de réussite	80,83	31,00	58,00	85,00	84,66	77,00		

Evaluation qualitative - châteaux - 5e2 classique - Pierrelatte - 1999/2000

NOM	1 A éléments motte castrale	1 a nom	1 b date	1B éléments château de pierre	1C crénelage	2 maison	2 défense	2 éco	2 pol
ASTORGA	a, b, c, d, e, 0	0	Xle au Xlle	a, b, 0, d, e	a, b, 0	0	1	0	0
BEAUCHAMP	a, donjon, c, d, e, 0	0 (Loches)	Xe au Xlle	a, b, 0, 0, 0	a, b, 0	0	0	0	0
BENMALEK	a, b, c, d, 0, f	0	1 fin Xe	a, b, 0, d, 0	0, b, 0	0	0	0	0
BILLOT	1	b	Xe au Xlle	1	1	1	1	1	1
BOURAI	1	0 (Loches)	Xe au Xlle	a, b, 0, d, e	1	1	1	1	1
BOUVET	a, b, 0, d, e, f	1 (Albon)	Xe au Xlle	a, b, 0, d, e	0, b, c	1	1	1	1
BRUGIERE	1	b	1 Xle	1	1	1	1	1	1
BUISSON	a, tour, 0, 0, e, 0	0	1 Xe	1	3	0	1	1	1
CHARPAIL	a, bois, c, barrière, e cour, f	0 (Grignan)	Xle au Xlle	a, b, 0, d, e	1	0	1	1	1
COURBIS	a, b, 0, d, e, 0	1 SJT	Xle au Xlle	1	1	1	1	1	1
DERYCKE	a, b, c, d, e, 0	1 (Albon)	Xle au Xlle	1	1	1	1	1	1
DURAND	a, bois-terre, c, d, e, f	1 (Albon)	1 Xe-Xlle	1	1	1	1	1	1
FATHI	0, b, 0, 0, 0	0 (Loches)	Xle au Xlle	0	0	1	0	0	0
FIQUET	1	0 (Loches)	Xle au Xlle	a, b, 0, d, 0	1	1	1	1	1
JACOBELLI	a, b, c, d, e, 0	0	Xe au Xlle	a, b, 0, d, e	1	1	1	1	1
LUC	0, b, c, d, e, f	0	Xe au Xlle	1	1	1	1	1	1
MEDINA	a, b, 0 d, e, f	0	1 Xle au Xlle	1	1	1	1	1	0
PAGES	1	1 SJT	Xle au Xlle	1	a, b, 0	1	1	1	1
PLATON	a, pierre, c, rempart, e, f	0	0	1	a, b, 0	0	1	0	1
SAHLI	a, b, c, d, e, 0	1 SJT	Xe au Xlle	1	1	1	1	1	1
TERZI	a, bois, c, d, e, f	0	Xe au Xlle	a, b, c, d, e	1	1	1	1	1
VIALLE	a, b, 0, 0, e, f	1 (Albon)	Xe au Xlle	1	1	1	1	1	1
VICTORIA	amblum, b, c, d, e, 0	0 (Loches)	Xe au Xlle	1	a, b, 0	1	1	1	1
WINAUD	a, b, c, d, e, 0	0 (Grignan)	Xle au Xlle	a, b, 0, d, e	1	1	1	1	1
total de b. rép.	5	7	5	13	18	18	21	19	19
% de b. réponses	20,83	29,17	20,83	54,17	75,00	75,00	87,50	79,17	79,17

Evaluation quantitative - châteaux - 5e4 archéologie -

Pierrelatte - 1999/2000

NOM	Q.1A/6	Q.1a/1	Q.1b/1	Q.1B/5	Q.1C/3	Q.2/4	Q.1-2/20	en %
ALVES	6,00	1,00	0,50	5,00	3,00	4,00	19,50	97,50
BERNARDIN	4,00	1,00	0,50	2,00	2,00	4,00	13,50	67,50
EDME	4,00	1,00	0,50	2,00	2,00	4,00	13,50	67,50
FAVRE	5,50	1,00	0,50	4,00	0,00	1,00	12,00	60,00
FRIN	5,00	1,00	0,50	5,00	3,00	1,00	15,50	77,50
GALDON	6,00	1,00	0,50	4,00	1,00	1,50	14,00	70,00
GRAND	6,00	1,00	0,50	5,00	3,00	4,00	19,50	97,50
HILL	2,50	0,00	1,00	2,00	2,00	4,00	11,50	57,50
HOCINE	6,00	1,00	0,50	5,00	3,00	4,00	19,50	97,50
JALAT	6,00	1,00	0,50	4,00	3,00	4,00	18,50	92,50
KREBS	3,00	1,00	1,00	3,00	1,00	2,00	11,00	55,00
LAMBERT	5,50	0,00	0,00	5,00	3,00	4,00	17,50	87,50
MAMALET	6,00	1,00	0,50	5,00	3,00	4,00	19,50	97,50
MANA	6,00	1,00	0,50	5,00	3,00	4,00	19,50	97,50
MANTOVANI	5,00	1,00	0,50	5,00	2,00	4,00	17,50	87,50
NODENOT	5,50	1,00	0,50	5,00	1,00	3,00	16,00	80,00
OURADOU	4,00	0,00	0,50	4,00	1,00	1,00	10,50	52,50
PEREIRA	3,00	1,00	0,50	2,00	0,00	1,00	7,50	37,50
POINT	5,00	1,00	0,50	5,00	3,00	4,00	18,50	92,50
RABOURDIN	6,00	1,00	0,50	5,00	3,00	4,00	19,50	97,50
RIVET	5,50	1,00	0,50	2,00	2,00	2,00	13,00	65,00
RODRIGUEZ	4,50	1,00	0,50	5,00	3,00	2,00	16,00	80,00
SEME	4,50	1,00	0,00	3,00	2,00	0,00	10,50	52,50
SPINNLER	6,00	1,00	0,50	4,00	1,00	4,00	16,50	82,50
TYPHAGNE	3,50	1,00	0,50	5,00	3,00	0,00	13,00	65,00
moyenne	4,96	0,88	0,50	4,04	2,12	2,82	15,32	76,60
% de réussite	82,67	88,00	50,00	80,80	70,67	70,50		

Evaluation qualitative - châteaux - 5e4 archéologie - Pierrelatte - 1999/2000

NOM	1A éléments motte castrale	1a nom	1b date	1B éléments château de pierre	1C crénelage	2 maison	2 défense	2 éco	2 pol
ALVES	1	1 (Rochefort)	Xe au Xlle	1	1	1	1	1	1
BERNARDIN	a, b, c, 0, e, 0	1 (Rochefort)	Xlle au Xlle	0, b, c, 0, 0	a, b, 0	1	1	1	1
EDME	a, b, c, 0, 0, f	1 (Rochefort)	Xle au Xlle	0, b, c, 0, 0	a, b, 0	1	1	1	1
FAVRE	a, donjon, c, d, e, f	1 (Rochefort)	Xe au Xlle	a, b, c, d, 0	0	0	1	0	0
FRIN	a, b, c, 0, e, f	1 (Rochefort)	Xlle au Xlle	1	a, 0, c	0	1	0	0
GALDON	1	1 (Rochefort)	Xe au Xlle	a, b, c, 0, e	0, 0, c	1	ennemis	0	0
GRAND	1	1 (Rochefort)	Xe au Xlle	1	1	1	1	1	1
HILL	a, terre-bois, 0, 0, 0, e, f	0 (Loches)	Xe au Xlle	0, b, c, 0, 0	a, b, 0	1	1	1	1
HOCINE	1	1 (Rochefort)	Xe au Xlle	1	1	1	1	1	1
JALAT	1	1 (Rochefort)	Xe au Xlle	0, b, c, d, e	1	1	1	1	1
KREBS	a, b, c, 0, 0, 0	1 (Rochefort)	1 Xle	0, b, c, 0, e	a, 0, 0	0	1	1	0
LAMBERT	a, b, c, rempart bois, e, f	0	Xlle	1	1	1	1	1	1
MAMALET	1	1 (Albon)	Xle au Xlle	1	1	1	1	1	1
MANA	1	1 (Rochefort)	Xe au Xlle	1	1	1	1	1	1
MANTOVANI	a, b, c, 0, e, f	1 (Rochefort)	Xle au Xlle	1	a, b, 0	1	1	1	1
NODENOT	a, pierre-bois, c, d, e, f	1 (Rochefort)	Xe au Xlle	1	0, 0, c	1	1	1	0
OURADOU	a, b, c, d, 0, 0	0	Xle au Xlle	a, b, c, d, 0	0, 0, c	0	1	0	0
PEREIRA	a, b, c, 0, 0, 0	1 (Rochefort)	Xle au Xlle	0, b, c, 0, 0	0	0	1	0	0
POINT	a, b, c, d, 0, f	1 (Bayeux)	Xe au Xlle	1	1	1	1	1	1
RABOURDIN	1	1 (Albon)	Xle au Xlle	1	1	1	1	1	1
RIVET	a, b, c, rempart, e, f	1 (Rochefort)	Xle au Xlle	a, 0, 0, d, 0	a, 0, c	1	1	0	0
RODRIGUEZ	a, tour, c, 0, e, f	1 (Rochefort)	Xe au Xlle	1	1	1	1	0	0
SEME	a, b, c, rempart, e, 0	1 (Rochefort)	Xlle au Xlle	a, b, c, 0, 0	a, b, 0	0	0	0	0
SPINLER	1	1 (Rochefort)	Xe au Xlle	a, b, c, 0, e	0, 0, c	1	1	1	1
TYPHAGNE	a, 0, c, rempart, e, 0	1 (Rochefort)	Xlle	1	1	0	0	0	0
total de b. rép.	9	23	1	13	11	18	22	16	14
% de b. réponses	36,00	92,00	4,00	52,00	44,00	72,00	88,00	64,00	56,00

**Références des supports pédagogiques utilisés
au collège de Farébersviller - Année scolaire 1999/2000
Chapitre : les châteaux - Classe de 5e**

questions	démarche historique générale	démarche historique archéologique
<p>1) Complète les dessins des différents châteaux ci-dessous. Comment appelle-t'on ce château ? 1a nom : Donne le nom d'un exemple de ce type de château. De quand date ce type de château ? dessin 1a dessin 1B dessin 1C</p>	<p>- copie de la motte de la tapisserie de Bayeux - projection des dessins de la motte de Pleshey et Dinan - dessin d'une motte typique à compléter - dessin d'un château de pierre typique à compléter - photo 1 p.88</p>	<p>- 3 diapositives de mottes - projection du dessin de la motte de South Mimms - dessin d'une motte typique à compléter - 3 diapositives de château de pierre - dessin d'un château de pierre typique à compléter</p>
<p>2) Donne les fonctions de ces châteaux</p>	<p>- dessin de restitution d'un donjon 2 p.89 - réflexions</p>	<p>- réflexions</p>

Manuel : MARSEILLE (J.), SCHEIBLING (J.), dir., *Histoire Géographie* 5e, Paris, Nathan, 1997, 320 p.

Evaluation quantitative - châteaux - 5e4 archéologie -

Farèbersviller - 1999/2000

NOM	Q.1A/6	Q.1a/1	Q.1b/1	Q.1B/5	Q.1C/3	Q.2/4	Q.1-2/20	en %
AIT ZAID	1,00	0,00	0,50	0,00	0,00	1,00	2,50	12,50
BENGARRA	3,00	0,00	1,00	2,00	1,00	1,00	8,00	40,00
BOUIGUELEM	1,50	0,00	1,00	1,00	0,00	1,00	4,50	22,50
BOUSERHANE	1,50	0,00	1,00	0,00	2,00	1,00	5,50	27,50
CHOUKRI	0,50	0,00	1,00	0,00	0,00	2,00	3,50	17,50
EL-GAILA	0,00	0,00	0,00	0,00	0,00	0,00	0,00	0,00
ELHICHOU	5,50	1,00	0,00	0,00	0,00	2,00	8,50	42,50
ESSEBA	5,50	0,00	1,00	3,00	3,00	3,00	15,50	77,50
FLORE	6,00	1,00	1,00	5,00	3,00	4,00	20,00	100,00
KIERMEIER	5,50	0,00	1,00	5,00	3,00	3,00	17,50	87,50
KLEIN	5,50	0,00	0,00	2,00	3,00	1,00	11,50	57,50
KREBS	1,00	0,00	0,00	3,00	0,00	0,00	4,00	20,00
KRIMACHE	0,00	0,00	0,00	0,00	0,00	0,00	0,00	0,00
LUDOVIC	2,50	0,00	1,00	2,00	3,00	1,00	9,50	47,50
MANOU	1,00	0,00	0,00	1,00	0,00	1,00	3,00	15,00
MAULU	1,00	0,00	0,00	0,00	0,00	1,00	2,00	10,00
PASQUALETTO	5,50	1,00	1,00	4,00	2,00	3,00	16,50	82,50
PRIMIEROLLO	2,50	0,00	0,00	1,00	0,00	1,00	4,50	22,50
TAHOURI	1,50	0,00	1,00	1,00	0,00	1,00	4,50	22,50
THOMMES	2,50	0,00	0,00	0,00	0,00	0,00	2,50	12,50
UNAL	6,00	0,00	1,00	3,00	3,00	4,00	17,00	85,00
WINGERT	2,50	0,00	0,00	0,00	0,00	0,00	2,50	12,50
moyenne	2,80	0,14	0,52	1,50	1,05	1,41	7,41	37,05
% de réussite	46,66	14,00	52,00	30,00	35,00	35,25		

Evaluation qualitative - châteaux - 5e4 archéologie - Farèbersviller - 1999/2000

NOM	1A éléments motte castrale	1a nom	1b date	1B éléments château de pierre	1C crénelage	2 maison	2 défense	2 éco	2 pol
AIT ZAID	0,bois, 0, 0, 0, 0	0	XIe-XIIIe	0	0	0	1	0	0
BENGARRA	a, b, 0, chemin de ronde,0,0	0	1 IXe	a, b, 0, 0, 0	0, 0, c	0	1	0	0
BOUIGUELEM	0, bois, 0, 0, cour, 0	0	0	0, b, 0, 0, 0	0	0	1	0	0
BOUSERHANE	0, tour, c, 0, 0, 0	0	1 XIe	0	a, b, 0	0	1	0	0
CHOUKRI	0, tour, 0, 0, 0, 0	0	1 XIe	0	0	1	1	0	0
EL-GAILA	0	0	0	0	0	0	0	0	0
ELHICHOU	a, b, c, enceinte, e, f	1 Ve	0	0	0	1	1	0	0
ESSEBA	a, b, c, rempart, e, f	0	1	a, b, c, 0, 0	1	1	1	1	0
FLORE	1	1 Ve	1	1	1	1	1	1	1
KIERMEIER	a, b, c, rempart, e, f	0	1	1	1	0	1	1	1
KLEIN	a, b, c, d, e	0	0	0, 0, c, d, 0	1	0	1	0	0
KREBS	0, donjon, 0, rempart, 0, 0	0	0	a, b, 0, 0, e	0	0	0	0	0
KRIMACHE	0	0	0	0	0	0	0	0	0
LUDOVIC	0, tour, c, 0, e, 0	0	1 IXe	a, b, 0, 0, 0	1	0	1	0	0
MANOU	0, pierre, c, rempart, 0, 0	0	0	0, 0, c, 0, 0	0	0	1	0	0
MAULU	0, donjon, trou d'eau,0, 0,0	0	0	0	0	0	1	0	0
PASQUALETTO	a, tour, c, d, e, f	1 Ve	1	a, b, c, d, 0	0, b, c	1	1	1	0
PRIMIEROLLO	0, b, 0, créneau, e, 0	0	0	a, 0, 0, 0, 0	0	0	1	0	0
TAHOURI	0, 1, 0, barrière, 1	0	0	0	0	0	0	0	0
THOMMES	1	0	0	0	0	0	0	0	0
UNAL	1	0	1	a, b, 0, d, 0	1	1	1	1	1
WINGERT	0, bois, c, 0, 0, 0	0	0	0	0	0	0	0	0
total de b. rép.	3	3	9	2	6	6	16	5	3
% de b. réponses	13,64	13,64	40,91	9,09	27,27	27,27	72,73	22,73	13,64

**Evaluation quantitative - châteaux - 5e6 classique -
Farèbersviller - 1999/2000**

NOM	Q.1A/6	Q.1a/1	Q.1b/1	Q.1B/5	Q.1C/3	Q.2/4	Q.1-2/20	en %
AIT	0,50	0,00	1,00	1,00	0,00	0,00	2,50	12,50
AKOUDAD	0,50	0,00	0,00	1,00	2,00	0,00	3,50	17,50
ALLARD	5,00	0,00	0,00	3,00	3,00	1,00	12,00	60,00
ANANIEZ	5,00	0,00	0,00	3,00	2,00	1,00	11,00	55,00
ARANDA	5,00	0,00	1,00	3,00	1,00	1,00	11,00	55,00
BOUZIDI	3,00	0,00	0,00	1,00	0,00	1,00	5,00	25,00
BRUN	5,50	1,00	1,00	5,00	3,00	1,00	16,50	82,50
EL MAKCHAOUI	6,00	0,00	1,00	0,00	3,00	1,00	11,00	55,00
FAUGERAT	3,50	0,00	0,00	1,00	3,00	0,00	7,50	37,50
FEUERSTEIN	3,50	0,00	1,00	5,00	3,00	1,00	13,50	67,50
FIACRE	6,00	0,00	0,00	4,00	3,00	2,00	15,00	75,00
IMAREGHNE	0,50	0,00	0,00	0,00	0,00	0,00	0,50	2,50
LA LEGGIA	2,50	0,00	0,00	1,00	0,00	1,00	4,50	22,50
LE VAN CAU	4,50	0,00	0,00	2,00	2,00	1,00	9,50	47,50
LUTZ	6,00	0,00	1,00	3,00	2,00	1,00	13,00	65,00
OUADAH	2,00	0,00	0,00	0,00	0,00	1,00	3,00	15,00
REINKE	5,50	1,00	1,00	5,00	3,00	4,00	19,50	97,50
ROTTA	6,00	0,00	1,00	5,00	3,00	0,00	15,00	75,00
TEKINER	3,50	0,00	0,00	5,00	3,00	1,00	12,50	62,50
WASYLEZENKO	6,00	1,00	1,00	4,00	3,00	3,00	18,00	90,00
moyenne	4,00	0,15	0,45	2,60	1,95	1,05	10,20	51,00
% de réussite	66,67	15,00	45,00	52,00	65,00	26,25		

Evaluation qualitative - châteaux - 5e6 classique - Farèbersviller - 1999/2000

NOM	1A éléments motte castrale	1a nom	1b date	1B éléments château de pierre	1C crénelage	2 maison	2 défense	2 éco	2 pol
AIT	0, bois, 0, 0, 0, 0	0	1	0, 0, c, 0, 0	0	0	0	0	0
AKOUDAD	0, 0, cours d'eau, 0, 0, 0	0	0	0, 0, c, 0, 0	a, b, 0	0	0	0	0
ALLARD	1	0	0	a, b, 0, d, 0	1	0	1	0	0
ANANIEZ	0, b, c, d, e, f	0	0	a, 0, 0, d, e	a, b, 0	0	1	0	0
ARANDA	0, b, c, d, e, f	0	1 Xe-Xle	a, b, 0, 0, e	a, 0, 0,	0	1	0	0
BOUZIDI	0, donjon, c, muraille, 0, f	0	0	a, 0, 0, 0, 0	0	0	1	0	0
BRUN	a, b, c, rempart, e, f	1 D	1 Xle	1	1	0	1	0	0
EL MAKCHAOUJ	1	0	1	0	1	0	0	0	0
FAUGERAT	a, b, c, enceinte, 0, 0	0	0	0, b, 0, 0, 0	1	0	0	0	0
FEUERSTEIN	a, tour, 0, 0, e, f	0	1 Xle	1	1	0	1	0	0
FIACRE	1	0	0	a, b, 0, d, e	1	1	1	0	0
IMAREGHNE	0, bois, 0, 0, 0, 0	0	0	0	0	0	0	0	0
LA LEGGIA	0, tour, c, 0, e, 0	0	0	0, b, 0, 0, 0	0	0	1	0	0
LE VAN CAU	colline, b, c, 0, e, f	0	0	0, b, 0, d, 0	a, b, 0	0	1	0	0
LUTZ	1	0	1 IXe-Xe	a, 0, 0, d, e	0, b, c	0	1	0	0
OUADAH	0, b, 0, 0, 0, f	0	0	0	0	0	1	0	0
REINKE	a, donjon, c, d, e, f	1 D	1	1	1	1	1	1	1
ROTTA	a, tour, c, 0, 0, f	0	0	1	1	0	1	0	0
TEKINER	1	1 P	1	1	1	0	1	1	1
WASYLEZENKO	1	1 D	1 Xle	a, b, c, 0, e	1	0	1	1	1
total de b. rép.	6	3	8	5	10	2	15	3	3
% de b. réponses	30,00	15,00	40,00	25,00	50,00	10,00	75,00	15,00	15,00

**Les paysans et les villes - 5e - contrôle d'histoire et
correction - Année scolaire 1999/2000**

1) Complète le tableau suivant

lieux des ressources alimentaires et des matériaux pour fabriquer des objets	méthodes pour se procurer ces ressources	exemples d'objets ou de produits alimentaires utilisés, ou faits à partir de cela
1 exemple : a = cours d'eau, lac	1 exemple : - pê = pêche - tr = transport de l'eau	2 exemples : - poissons - usage de l'eau pour la maison
1 exemple : b = forêt	1 exemple : - buch = bûcheron, - ch = chasse, - charp = charpentier, cu = cueillette, dé = déboisement, forg = forgeron, men = menuisier, po = potier, ta = tailleur de pierres	2 exemples : - pierre pour les maisons - bois de chauffe, de charpente (= charp) - fruits sauvages pour manger - bois pour des ustensiles (= ustens), des outils, des instruments (= instru) - argile pour les céramiques - nourriture d'animaux sauvages (= sauv)
1 exemple : c = agriculture	1 exemple : cult = culture, él = élevage, ag = agriculture	2 exemples : - céréales (= céré) - vêtements (vêt) à partir des peaux épingles et peigne en os - animaux élevés pour la viande, le lait, le transport, la force physique

d = commerce

2) Explique les principaux pouvoirs des villes en donnant deux lieux symboliques qui représentent chaque pouvoir.

→ **pol** = pouvoir politique : château (= **chât**), remparts d'une ville, palais de l'évêque (= **évêq**), militaire (= **mil**)

→ **rel** = pouvoir religieux : cathédrale (= **cath**), église (= **égl**), abbaye (= **abb**), monastère (=monast)

→ **éco** = pouvoir économique : moulin, place (= **pl**) du marché (= **mar**), banque, halle, foire (= **foir**)

Lieux : CA d'Oro : à Venise (= **V**)

P ou **PLT** = Pierrelatte

RV = Rochefort-en-Valdaine

SP ou **SPTC** = Saint-Paul-Trois-Châteaux

SLR = Suze-la-Rousse